

ДЕМОВЕРСИЯ

Задание 1. Внимательно рассмотри рисунки предметов. Это изображения спортивного инвентаря. Стрелкой с надписью «дерево» отмечены лыжи, которые могут быть сделаны из этого материала. Укажи на рисунке стрелкой любой предмет (деталь) из пластика и любой предмет (деталь) из металла. Подпиши название соответствующего материала рядом с каждой стрелкой.



Задание 2. На интернет-сайтах погоды можно встретить подобные таблицы. Внимательно изучи прогноз погоды на трое суток.

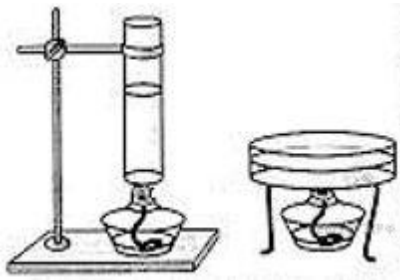
	Понедельник, 4 октября				Вторник, 5 октября				Среда, 6 октября			
	Ночь	Утро	День	Вечер	Ночь	Утро	День	Вечер	Ночь	Утро	День	Вечер
Облачность и атмосферные осадки	☁*	☀	☀	☁	☁	☀	☁	☁	☁	☀	☀	☾
Температура воздуха, °С	0	4	9	4	2	5	9	5	4	9	13	6
Ветер	▲	▼	▲	▲	▲	▶	▲	▶	▲	▲	▲	▲
	СЗ	С	СЗ	СВ	ЮЗ	З	ЮЗ	З	В	В	В	В
Влажность воздуха, %	92	66	33	64	83	69	59	74	74	60	55	79

Выбери верные утверждения об ожидаемой погоде на эти трое суток и запиши в строку ответа их номера.

- 1) Во вторник днём ожидаются осадки.
- 2) Самая холодная за трое суток ночь ожидается в понедельник.
- 3) На протяжении всех трёх суток влажность воздуха меняться не будет.

Ответ: _____

Задание 3. Ученики 4-го класса проводили опыты с целью изучения свойств воды. Они хотели выяснить, влияет ли площадь поверхности, с которой испаряется вода, на скорость испарения. Ребята взяли два сосуда одинакового объёма: высокую узкую пробирку и низкую широкую плошку. Оба сосуда поставили нагревать на спиртовки.

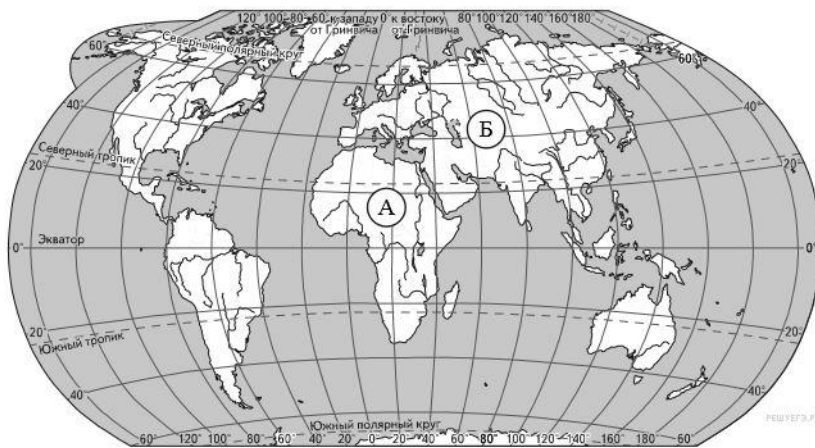


Сравни условия проведения эксперимента в двух сосудах. Подчеркни слово, которое верно отражает эти условия.

Объём воды в каждом сосуде: **одинаковый/различный**

Площадь поверхности воды в каждом сосуде: **одинаковая/ различная**

Задание 4. Рассмотрите карту мира. На ней буквами А и Б отмечены два материка.



Как называются отмеченные материки?

Название материка А _____

Название материка Б _____

Задание 5. Далее представлены изображения *муравьеда*, *ехидны*, *тираньи* и *утконоса*.


Запиши название каждого из этих животных под его изображением.



1)



2)



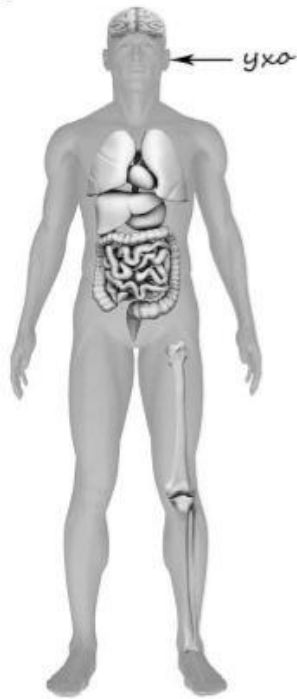
3)



4)

Задание 6. Рассмотрите изображение человека. Так же, как на примере слева отмечено ухо, на изображении справа покажите стрелками и подпишите кишечник, предплечье, печень человека.

Пример:



Ответ:



Задание 7. Внимательно рассмотрите знаки. Где можно встретить каждый из этих знаков?



1)



2)



3)

Как ты думаешь, какое правило отражает каждый из этих знаков?
Напиши эти правила.

- 1) _____
- 2) _____
- 3) _____

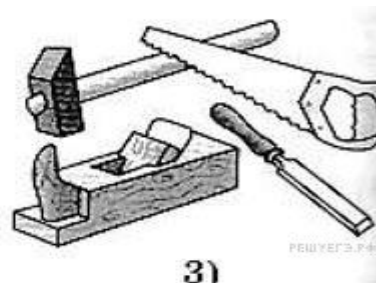
Задание 8. На фотографиях изображены предметы, с которыми работают представители разных профессий. Выбери ОДНУ из фотографий и запиши её номер. Запиши ответы на вопросы. Представители какой профессии работают с изображёнными на выбранной фотографии предметами? Если ты знаешь много профессий, представители которых работают с выбранным(-и) тобой предметом(-ами), назови любую из них. Какую работу выполняют люди этой профессии? Чем работа людей этой профессии полезна обществу?



1)



2)



3)

Задание 9. Как ты думаешь, почему для современного человека важно уважительно относиться к традициям разных народов? (Напиши ответ объёмом до пяти предложений).

Задание 10. Если правильно подобрать к началу каждой фразы из первого столбца продолжение фразы из второго столбца, то получится правило, помогающее человеку сохранить здоровье и жизнь. Составь два правила из приведённых частей фраз: для этого к каждой позиции первого столбца подбери соответствующую позицию из второго столбца.

НАЧАЛО ФРАЗЫ

А) Чтобы избежать травм при падении различных предметов во время сильного ветра,

Б) Чтобы не переохладиться, выходя на улицу в холодную погоду,

ПРОДОЛЖЕНИЕ ФРАЗЫ

1) старайся находиться в местах, защищённых крышей.

2) не залезай на высокие строения.

3) надень тёплую одежду.

А	Б

Задание 11

11.1. Запиши название региона: республики, или области, или края, или автономного округа, в котором ты живёшь. _____

11.2. Запиши название столицы или главного административного города твоего региона. _____

11.3. Какие известные люди родом из твоего региона оставили след в истории нашей страны? Напиши об одном из них. _____
