

ЗАДАНИЕ В.

Задание В.1. В соответствии с Законом «Об исчислении времени» и постановлением Правительства РФ с сентября 2011 г. на территории страны установлено 9 часовых зон (см. карту).



Самолёт вылетел из Екатеринбурга (III часовая зона) в Якутск (VII часовая зона) в 10 часов по местному времени Екатеринбурга. Расчётное время полёта составляет 4 часа. Сколько времени будет в Якутске, когда самолёт приземлится?

Ответ запишите цифрами. _____

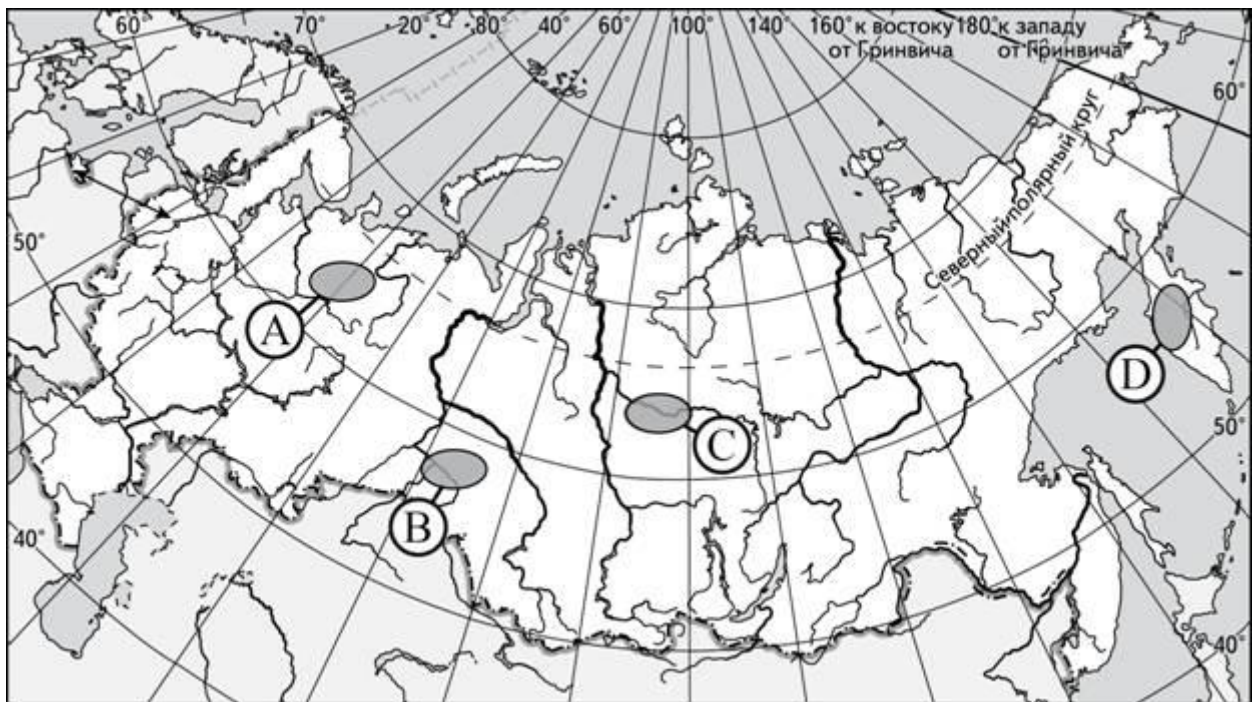
Задание В.2. Установите соответствие между процессами рельефообразования и формами рельефа:

- | | |
|------------------------------|--------------------------------------|
| 1. Прикаспийская низменность | А. Деятельность древнего оледенения; |
| 2. Приволжская возвышенность | Б. Деятельность текучих вод |
| 3. Северные Увалы | В. Деятельность моря |

Запишите в таблицу буквы, соответствующие выбранным ответам.

1	2	3

Задание В.3. Для какой из обозначенных буквами на карте России территорий характерны сильные землетрясения?

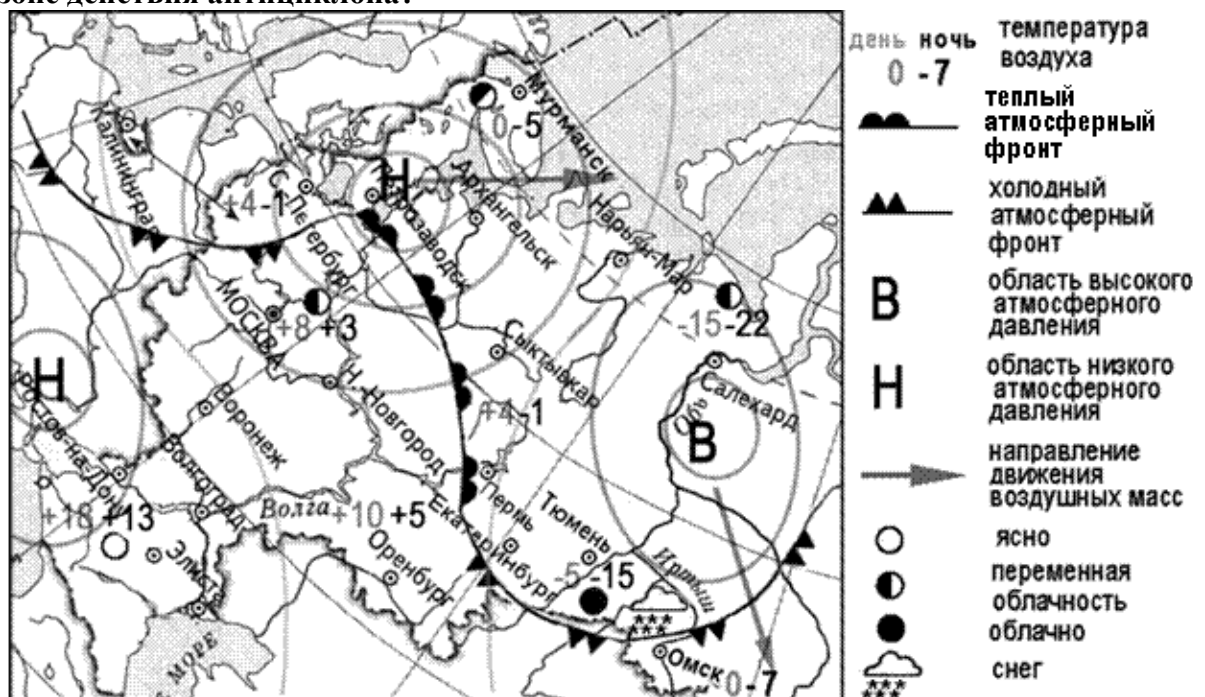


A; B; C; D.

Задание В.4. Как называется природное явление, о котором идёт речь в приведённом ниже тексте?

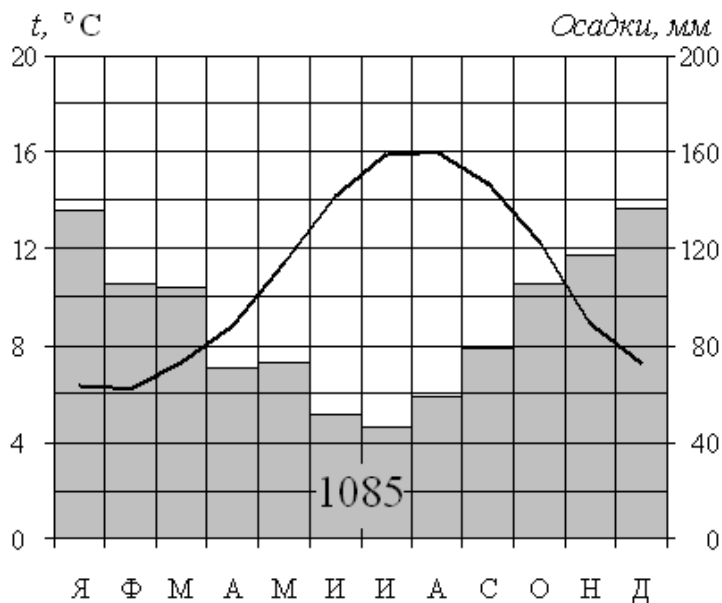
Это было в 1952 г. в Северокурильские. Через 40 минут после землетрясения со стороны океана слышался гул, подобный канонаде. В посёлке, расположенном на низком берегу пролива, поднялась тревога. Через несколько минут на побережье обрушилась высокая океанская волна.

Задание В.5. Какой из перечисленных городов, показанных на карте, находится в зоне действия антициклона?



А. Архангельск; Б. Салехард; В. Ростов на Дону; Г. Москва

Задание В.6. Используя данные климатограммы, определите годовую амплитуду среднемесячных температур воздуха для пункта А. Ответ запишите в виде числа.



ЗАДАНИЕ С.

Задание С.1. Почему в Калининградской области и в Якутске высота снежного покрова зимой не велика. Укажите причину для каждой территории.
