

ЗАДАНИЕ А.

Задание А.1. География – это наука:

- А. О космосе Б. О рельефе В. О планетах Г. О природе Земли

Задание А.2. Солнечная система – это:

- А. Солнце, 8 планет со спутниками, астероиды, кометы, метеорные частицы
Б. Звездная система В. Звезды и планеты Г. Скопление звездных систем

Задание А.3. Изображение на плоскости небольшого участка местности в уменьшенном виде с помощью условных знаков называется

- А. Рисунком Б. Аэрофотоснимком В. Планом местности Г. Фотографией

Задание А.4. Если стать лицом на север, то за спиной:

- А. Полярная звезда Б. Юг В. Восток Г. Запад

Задание А.5. Численный масштаб 1: 10 000 соответствует именованному:

- А. В 1 см - 100 км Б. В 1 см - 100м В. В 1 см - 1000 м Г. В 1 см - 10 км

Задание А.6. Неровности земной поверхности называют:

- А. Горизонталями Б. Рельефом В. Изогипсами Г. Высотами

Задание А.7. Земля имеет форму:

- А. Круга Б. Геоида В. Шара Г. Овала

Задание А.8. Параллели на картах и глобусе всегда имеют направление:

- А. Север – юг Б. Север – запад В. Восток – юг Г. Запад – восток

Задание А.9. Широта бывает:

- А. Западная и восточная В. Северная и южная
Б. Западная и южная Г. Восточная и северная

Задание А.10. Географическая долгота отсчитывается:

- А. От 0 до 90° Б. От 0 до 180° В. От 0 до 360° Г. От 90° до 180°

Задание А.11. Линии, соединяющие точки с одинаковыми глубинами называют:

- А. Изотермы Б. Изогипсы В. Изобаты Г. Горизонталы

Задание А.12. К топливным полезным ископаемым относится:

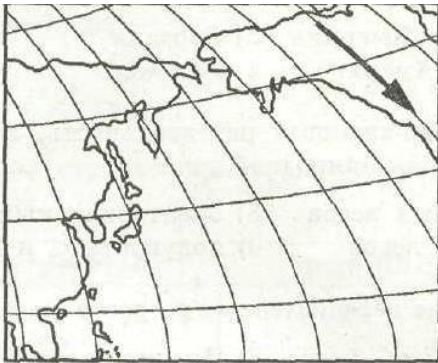
- А. Гранит Б. Песчаник В. Нефть, газ Г. Руды цветных металлов

Задание А.13. По берегам какого океана расположено большинство действующих вулканов Земли:

- А. Атлантического Б. Индийского В. Северного Ледовитого Г. Тихого

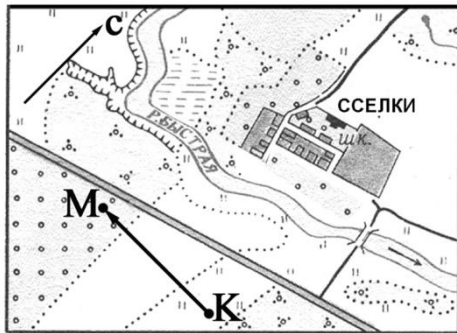
ЗАДАНИЕ В.

Задание В.1. Какому направлению соответствует направление, показанное стрелкой на фрагменте карты?

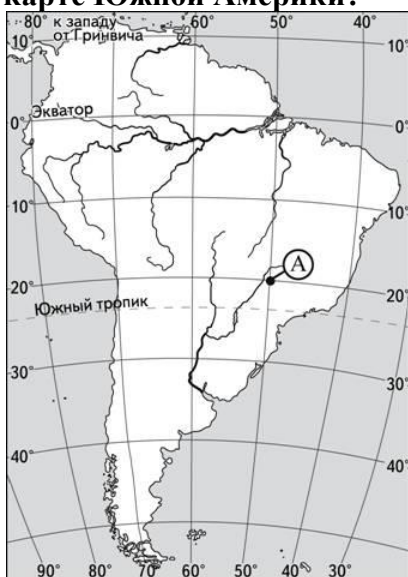


- А. Север
- Б. Юго-запад
- В. Восток
- Г. Юг

Задание В.2. По какому азимуту нужно идти, чтобы попасть из точки М в точку К? Ответ запишите цифрами. _____

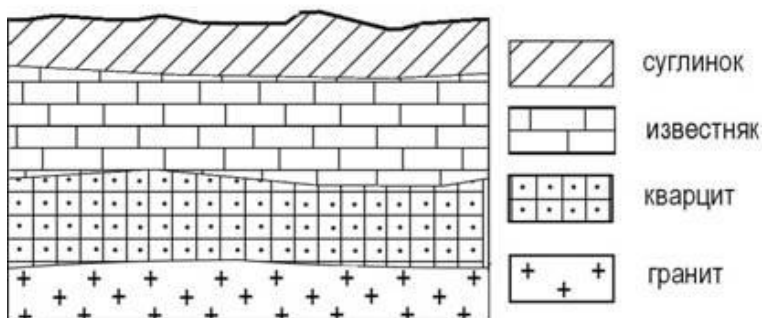


Задание В.3. Какие географические координаты имеет точка А, обозначенная на карте Южной Америки?



А	20° ю.ш. 50° з.д.
Б	20° с.ш. 50° з.д.
В	50° с.ш. 20° з.д.
Г	50° ю.ш. 20° в.д.

Задание В.4. Во время экскурсии учащиеся сделали схематическую зарисовку залегания горных пород на обрыве в карьере.



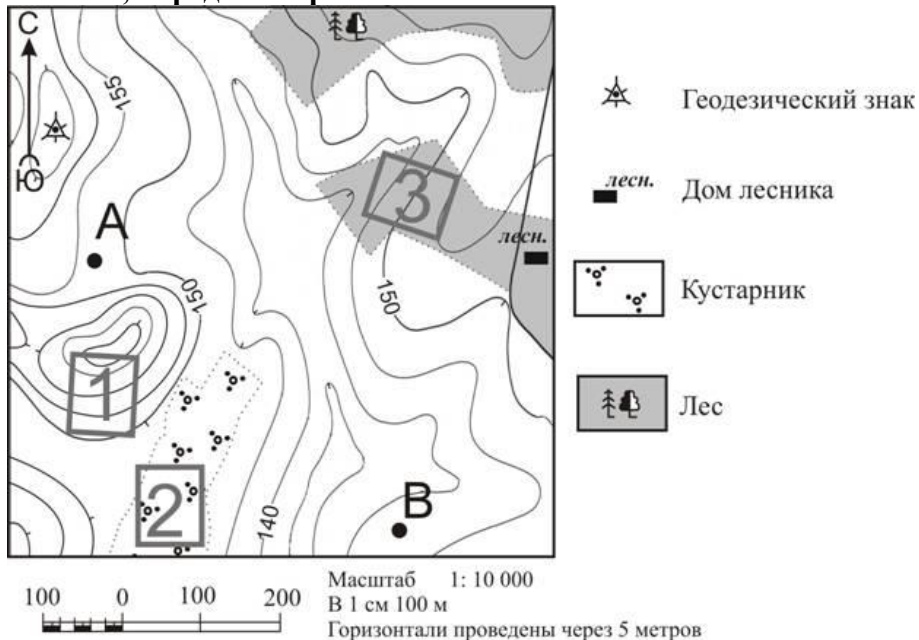
Расположите показанные на рисунке слои горных пород в порядке увеличения их возраста (от самого молодого до самого древнего).

А. Гранит Б. Кварцит В. Известняк

Запишите в таблицу получившуюся последовательность букв.

--	--	--

Задание В.5. Определите по карте, в каком направлении от точки А находится дом лесника, определите расстояние.



Информацию запишите в таблицу

Направление	
Расстояние	

Восток, м

Задание В.6. Установите соответствие между горными породами и условиями их происхождения:

- | | |
|-------------------|----------------------------|
| 1. Каменный уголь | А. Метаморфическая; |
| 2. Гранит | Б. Магматическая; |
| 3. Мрамор | В. Осадочная обломочная; |
| 4. Песок | Г. Осадочная органическая. |

Запишите в таблицу буквы, соответствующие выбранным ответам.

1	2	3	4

ЗАДАНИЕ С.

Задание С.1. Что такое ориентирование. Какие способы ориентирования на местности вы знаете?
